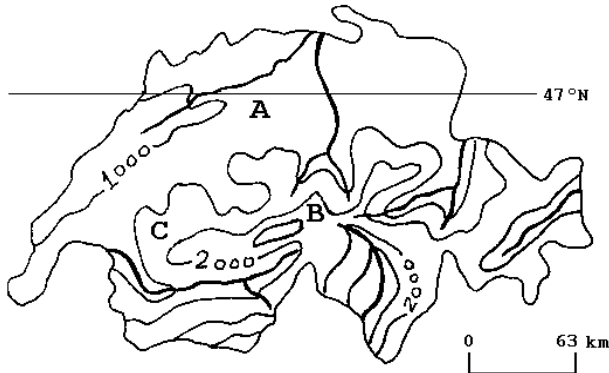


# GEOGRAFIA

T.01 - " Migração periódica dos rebanhos da planície, os quais vão habitar durante o calor as altas montanhas, delas descendo ao aproximar-se o inverno, ou vice-versa".



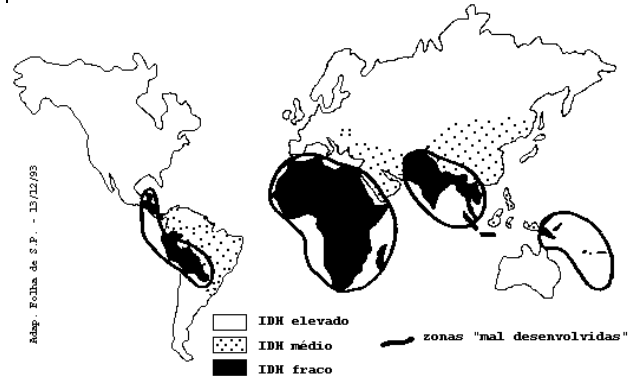
Considerando-se a representação de um país do Hemisfério Norte e a situação descrita acima, no inverno, assinale a alternativa correta:

	conceito	meses predominantes	deslocamentos
a)	transumância	maio a agosto	C para B
b)	aclimatação	novembro a março	A para B
c)	aclimatação	novembro a março	C para B
d)	transumância	novembro a março	B para A
e)	aclimatação	maio a agosto	A para B

T.02 - Considerando a reordenação territorial do campo brasileiro, o Oeste Catarinense, o Noroeste do Rio Grande do Sul e o Sudoeste do Paraná, constituem uma região de pequenas e médias propriedades, as quais,

- seguinto a tradição dos colonizadores europeus, dedicam-se à produção de alimentos para o autoconsumo.
- subordinadas às grandes empresas agropecuárias pelo sistema de integração, registram a maior criação de suínos e aves no país.
- estimuladas pelo crescimento das indústrias têxteis do Vale do Itajaí, substituíram as tradicionais áreas de milho pelo cultivo do algodão.
- estimuladas pelo mercado interno e externo, transformaram-se na maior área de criação de ovinos do país.
- mediante a articulação entre indústria e agricultura, subsistem à concentração fundiária produzindo arroz, vinho e lã.

## T.03 - ÍNDICE DE DESENVOLVIMENTO HUMANO (IDH)



Os níveis de desenvolvimento humano registrados no mapa acima, podem ser, principalmente, justificados na

- América Anglo-Saxônica e Europa, pelo processo de globalização recente.
- África, pelo elevado crescimento demográfico e a intensa produção agrícola para consumo interno.
- Ásia, pela exigüidade das áreas disponíveis para a produção agrícola de subsistência.
- África, pelo processo de colonização/descolonização, agravado pela suspensão de ajuda financeira externa ao final da Guerra Fria.
- América Latina, pela atuação crescente do Mercosul e do Pacto Andino.

T.04 - A Itália é um dos países mais industrializados da União Européia. Em seu território, a região que concentra maior atividade fabril é

- o Vale do Ádige, próximo a Verona e Veneza.
- o Vale do Tibre, na região de Roma.
- a Sicília, em Messina e Catânia.
- o Vale do Pó, principalmente entre Turim e Milão.
- a Campânia, em torno de Nápoles e Salerno.

T.05 - Quanto às formas de relevo, as Américas do Norte e do Sul apresentam, em comum, a predominância de:

- cadeias montanhosas do terciário a oeste e planícies sedimentares a leste.
- grandes planícies sedimentares na porção central e dobramentos recentes na porção oriental.
- cadeias montanhosas do terciário a oeste e planaltos antigos a leste.
- grandes planícies sedimentares na porção central e planaltos erodidos na porção ocidental.
- escudos cristalinos a oeste e planaltos antigos a leste.

T.06 - A rede hidrográfica brasileira, utilizada para os transportes fluviais,

- a) é bem distribuída e apresenta um alto potencial de navegação no sudeste, especialmente na sua porção centro-oriental.
- b) é distribuída desigualmente pelo país, estando o maior potencial navegável localizado periféricamente às áreas de economia mais avançada.
- c) apresenta um potencial de navegação que coincide com as áreas de maior exploração de hidroeletricidade.
- d) apresenta suas principais bacias voltadas para o Atlântico Sul nas costas orientais brasileiras, facilitando os transportes com o interior.
- e) é rica em interligações por canais fluviais que facilitam os transportes entre as bacias do rio São Francisco e do Paraná.

T.07 - Analisando as transformações ocorridas na ex-URSS, pode-se considerar que a Federação Russa

- a) atrai maciços investimentos estrangeiros, devido ao seu elevado ritmo de crescimento econômico.
- b) tem dificuldade em transferir a tecnologia desenvolvida no setor militar para a produção industrial do setor civil da economia.
- c) ainda figura entre as cinco maiores potências econômicas do globo, em razão de sua moderna agricultura destinada à exportação.
- d) completou o processo de privatização no país, porque suas empresas estatais eram rentáveis e competitivas no mercado.
- e) conseguiu construir sua identidade nacional, com a saída das demais repúblicas que constituíam a URSS.

T.08 - A divisão do território brasileiro em 3 grandes complexos regionais - Amazônia, Nordeste e Centro-Sul - tem a vantagem de caracterizar

- a) a Amazônia, com seus recursos explorados a partir de um planejamento global do Estado.
- b) o Nordeste, como um pólo de atração demográfica, em decorrência do turismo.
- c) o Centro-Sul, como região socioeconômica de poucos contrastes internos.
- d) a homogeneidade econômica no interior de cada complexo, do ponto de vista agropecuário.
- e) a espacialidade do processo socioeconômico, considerando a gênese histórica de cada complexo.

T.09 - "Menino travesso: El Niño retorna mais poderoso e ameaça enlouquecer o tempo em todo mundo". (Revista Veja 27/08/97 p.42-43)

A notícia acima exemplifica a ampla cobertura da mídia sobre esse fenômeno, geralmente relacionado à

- a) atuação inesperada da massa de ar úmida que, ao esfriar as águas do Oceano Pacífico, eleva os índices de evaporação e intensifica as chuvas de monções no SE asiático.
- b) presença de correntes marítimas com baixas temperaturas na costa ocidental americana, justificando a diminuição dos cardumes no Chile e as estiagens no SE do Brasil e dos EUA.
- c) inversão térmica oceânica que aquece parte das águas superficiais do Pacífico, aumenta o número de tempestades marítimas e desregula os índices de chuva na região tropical.
- d) temporada de furacões e episódios de secas nas costas ocidentais americanas, devido ao aumento da força dos ventos tropicais que sopram da Ásia em direção à América do Sul.
- e) formação de ondas que trazem à tona as águas mais frias do fundo do Oceano Pacífico, intensificando os índices de aridez no Peru e Sul do Brasil e as inundações na Ásia tropical.

T.10 - Considere as afirmativas abaixo para responder à questão:

- I - A Amazônia é o pulmão do mundo, tendo em vista a intensa atividade biológica da floresta que recobre a região.
- II- A Amazônia concentra grande quantidade de calor, contribuindo para ativar a circulação atmosférica.
- III- A crescente poluição das águas fluviais da Amazônia, sobretudo nas áreas de garimpo de ouro, contribui para a diminuição da piscosidade dos rios.

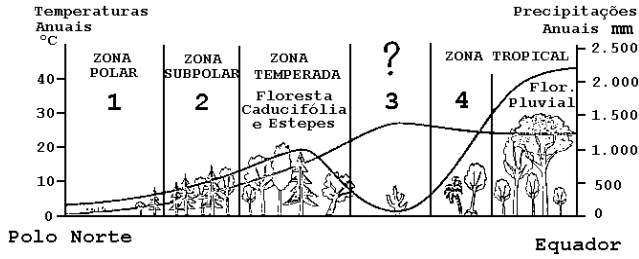
Sobre a questão ambiental da Amazônia somente:

- a) I está correta.
- b) I e II estão corretas.
- c) II está correta.
- d) III está correta.
- e) II e III estão corretas.

T.11 - No Brasil, as concentrações minerais localizadas no Quadrilátero Ferrífero e em Carajás formaram-se na era geológica

- a) Pré-Cambriana.
- b) Paleozóica.
- c) Mesozóica.
- d) Cenozóica.
- e) Quaternária.

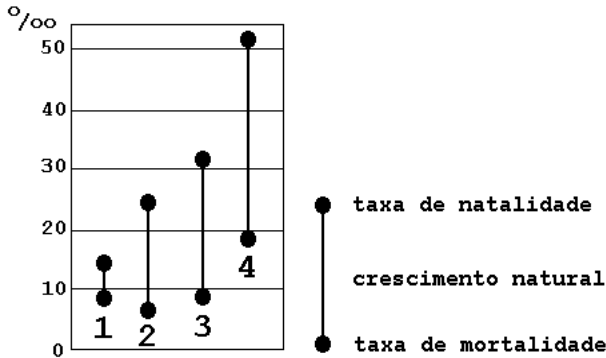
T.12 -



Analisando, de forma esquemática, a relação entre temperatura e precipitação anual, em um corte do Pólo Norte ao Equador, os domínios vegetais predominantes nas regiões 1, 2, 3 e 4, são:

	1	2	3	4
a)	tundra	floresta temperada	cerrado	deserto
b)	taiga	tundra	savana	deserto
c)	tundra	taiga	deserto	savana
d)	taiga	floresta temperada	deserto	savana
e)	taiga	tundra	savana	cerrado

T.13 - Os países identificados seqüencialmente pelos números 1, 2, 3 e 4 são:

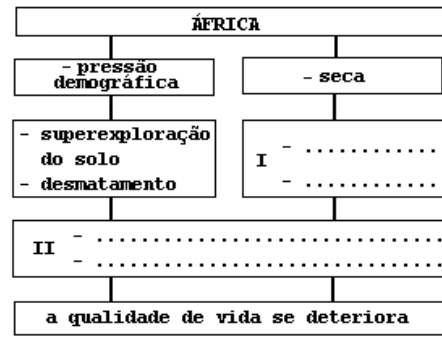


	1	2	3	4
a)	França	Brasil	Índia	Níger
b)	Itália	China	Brasil	Espanha
c)	França	Brasil	Índia	China
d)	Itália	Índia	Brasil	Espanha
e)	Itália	China	Índia	Brasil

T.14 - Na tabela abaixo, cada porto brasileiro movimenta um produto mineral dominante. Assinale a associação correta.

	Tubarão (ES)	Imbituba (SC)	Macau (RN)	São Sebastião (SP)
a)	Ferro	Fosfato	Petróleo	Sal
b)	Carvão	Sal	Fosfato	Ferro
c)	Manganês	Xisto	Sal	Fosfato
d)	Zinco	Cobre	Carvão	Petróleo
e)	Ferro	Carvão	Sal	Petróleo

T.15 - O quadro abaixo refere-se à região do Sahel. Qual a alternativa que melhor complementa os trechos pontilhados?



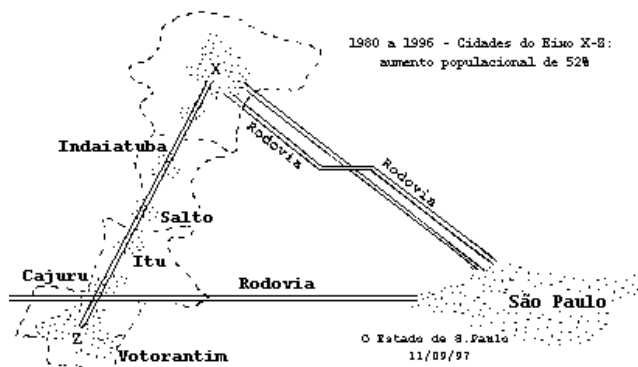
- a) I - erosão/avanço da desertificação  
II - política agrária inadequada /meio ambiente degradado.
- b) I - erosão/aumento pluviométrico irregular  
II - expansão de latifúndios/pastagens extensivas
- c) I - desertificação/intemperismo químico  
II - expansão de latifúndios/culturas comerciais
- d) I - desertificação/intemperismo químico  
II - política agrária inadequada/culturas comerciais
- e) I - erosão/desertificação  
II - expansão de latifúndios/pastagens intensivas

T.16 - "A terra atrai irresistivelmente o homem, arrebatando-o na própria correnteza dos rios (...) do Iguaçu ao Tietê, traçando originalíssima rede hidrográfica (...) Rasgam facilmente aqueles estratos em traçados uniformes, sem talvegues deprimidos e dão ao conjunto dos terrenos (...) a feição de largos plainos ondulados, desmedidos".

Adapt. de Euclides da Cunha, *Os Sertões*. Os termos sublinhados referem-se, respectivamente,

- a) aos rios que correm de leste para oeste, devido à localização dos divisores de água; / à ausência de montanhas dobradas no relevo brasileiro.
- b) às Sete Quedas, que desapareceram com a construção de Itaipu; / às margens largas das planícies sedimentares.
- c) aos rios que correm de leste para oeste, devido à localização dos divisores de água; / à linha de maior profundidade no leito fluvial.
- d) às Sete Quedas, que desapareceram com a construção de Itaipu; / à linha de maior profundidade no leito fluvial.
- e) aos rios de planalto que servem tanto para a navegação como para gerar energia; / à ausência de montanhas dobradas no relevo brasileiro.

T.17 -



Observe a figura acima para assinalar a alternativa que completa, na seqüência correta, as lacunas do texto.

O eixo X-Z caracteriza um processo de \_\_\_\_\_ entre dois pólos regionais, que são \_\_\_\_\_ e \_\_\_\_\_, delineando uma provável \_\_\_\_\_. A Rodovia \_\_\_\_\_, assinalada pela letra Y, representa uma das ligações desse eixo com a Grande São Paulo.

- a) Urbanização / Guarulhos / Osasco / desconcentração industrial / Via Dutra.
- b) Conurbação / Campinas / Sorocaba / região metropolitana / Castelo Branco.
- c) Urbanização / Ribeirão Preto / Piracicaba / concentração fundiária / Anhangüera-Bandeirantes.
- d) Conurbação / Osasco / Campinas / expansão industrial / Santos Dumont.
- e) Metropolização / Ribeirão Preto / Sorocaba / mancha urbana / Castelo Branco.

T.18 -



Identifique a região industrial que antes de 1997 já era responsável por 30% das exportações do país. Atualmente, com a passagem de Hong Kong para a administração chinesa, a importância dessa região aumentou consideravelmente. Trata-se da região:

- a) I
- b) II
- c) III
- d) IV
- e) V

T.19 - A produção de uva na região Nordeste tem localização definida e características que a diferenciam das tradicionais plantações da Região Sul brasileira. Apresenta:

- a) irrigação sistemática, temperatura pouco variável e localização no médio São Francisco, principalmente em Petrolina (PE) e Juazeiro (BA).
- b) irrigação esporádica, temperatura pouco variável e localização em áreas de maior altitude como a Chapada Diamantina (BA) e Borborema (PB).
- c) irrigação sistemática, temperatura mais baixa decorrente de maiores altitudes locais, especialmente em Vitória da Conquista (BA) e Garanhuns (PE).
- d) irrigação esporádica, temperatura mais baixa decorrente de áreas de maiores altitudes, localizando-se principalmente em Vitória da Conquista (BA) e Garanhuns (PE).
- e) irrigação sistemática, temperatura pouco variável decorrente da proximidade do litoral, especialmente em Ilhéus/Itabuna (BA) e Garanhuns (PE).

T.20 - Distribuição da População Rural e Urbana - Brasil - 1940/1991

Ano	Urbana %	Rural %
1940	31,23	68,77
1950	36,16	63,84
1960	44,67	55,33
1970	55,92	44,08
1980	67,60	32,40
1991	75,47	24,53

Fonte: IBGE/1991

Assinale a alternativa que explica a tabela acima.

- a) Devido à grande industrialização nas cidades, o período de 1940-1950 registrou as maiores taxas de crescimento da população urbana.
- b) O intenso processo de modernização do campo explica o acentuado esvaziamento da população rural entre 1950-1960.
- c) A forte industrialização registrada, no campo e na cidade, explica as taxas iguais de crescimento da população urbana e rural entre 1950-1960.
- d) Após 1950, o processo de industrialização gerou forte migração da população do campo para a cidade, praticamente invertendo sua distribuição no final dos anos 80.
- e) O avanço da industrialização no campo, interrompido nas duas últimas décadas, justifica a redução, pela metade, da população rural.